

StepOneKids

学習塾ステップワン オリジナル教材 幼児向けシリーズ

無料サンプル
ダイジェスト版

分野別くりかえし

回転図形

この教材は
「分野別くりかえし 回転図形」シリーズから
一部を抜き出したものです。

[収録教材]

- 問題 1～3 …… Step.1
- 問題 4～6 …… Step.2
- 問題 7～9 …… Step.3



・教材の購入はこちら・

のびラボ!

<http://nobilabo.com>

ステップワン
StepOne

※当教材データの複製、配布、譲渡、転売等を禁じます。
※当教材の記載内容の一切について無断転載や複写、引用等を禁じます。

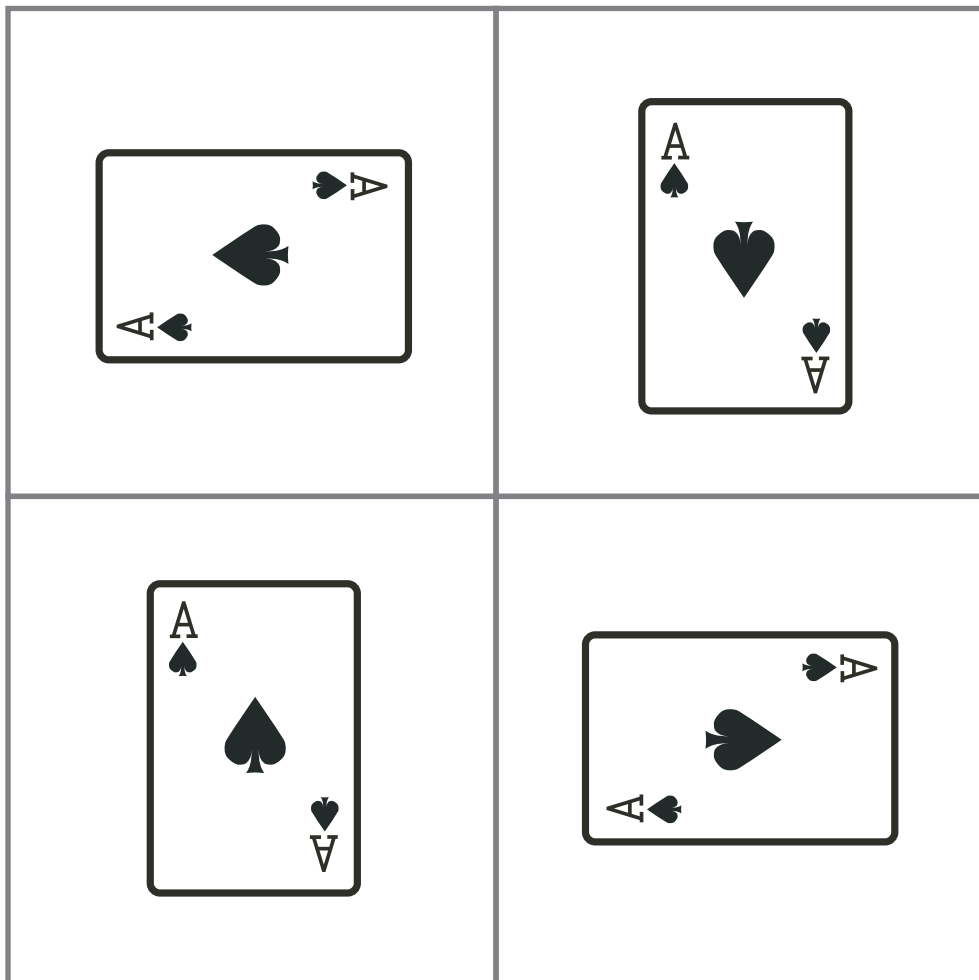
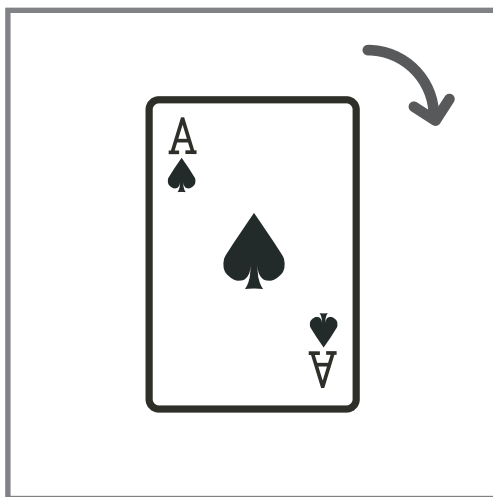
©2014 Step One All Rights Reserved.

問題 1

[分野別くりかえし]
回転図形シリーズ・SAMPLE

うえ みほん ず 上 ^{みほん} の ^ず 図 ^を、^む や ^{かい} じる ^の し ^の 向 ^き に 1 回 ^{まわ} す と だ ^う じ ^や な ^り ます ^か。

ただ 正しい ^{もの} を ^下 から ^{さが} して [○] を ^つ けて ^く だ ^さ さい。

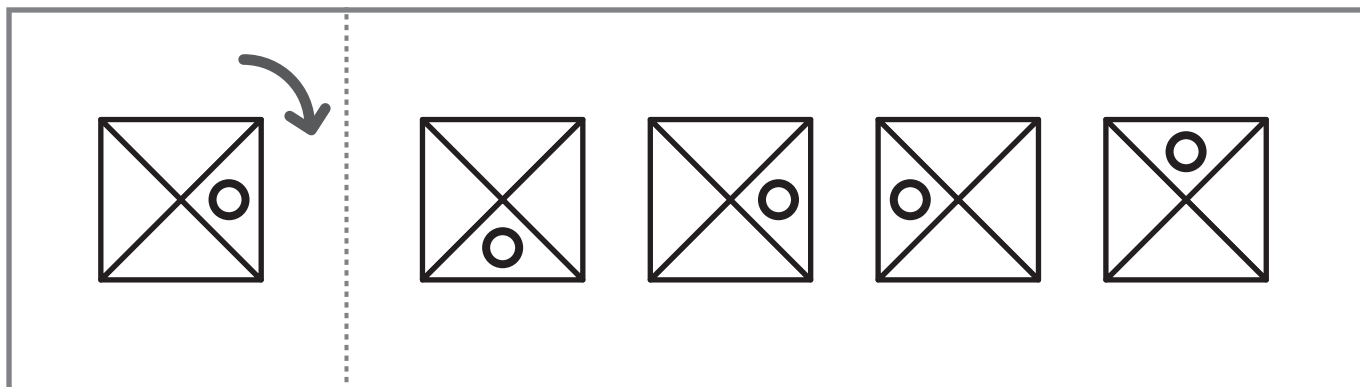
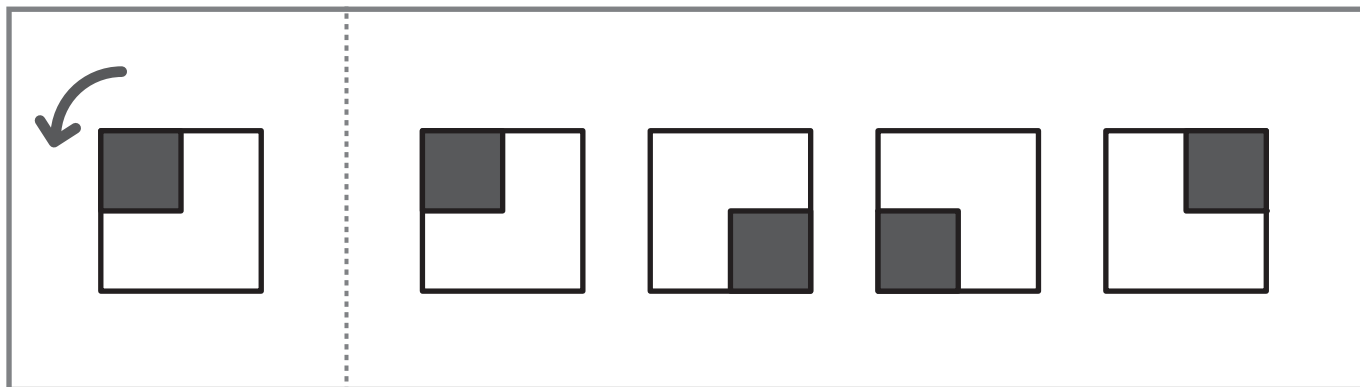
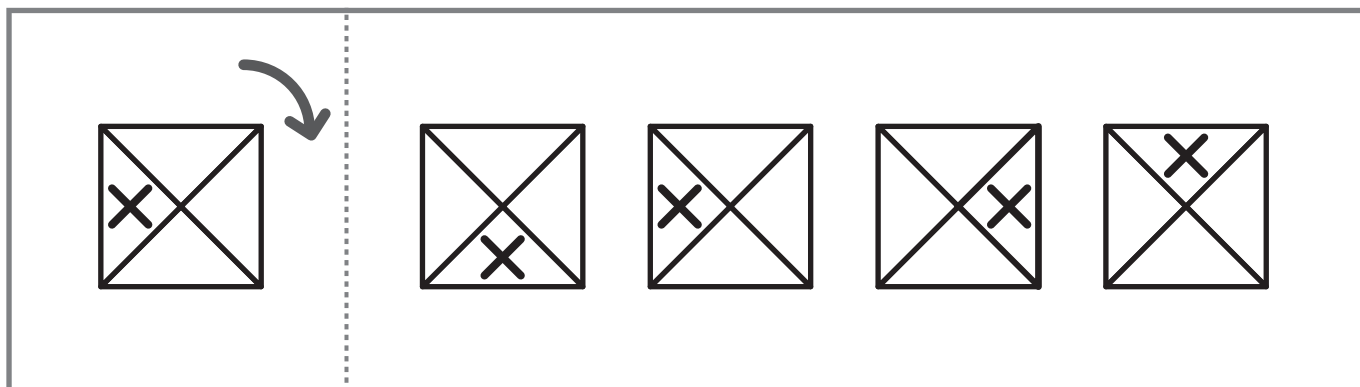
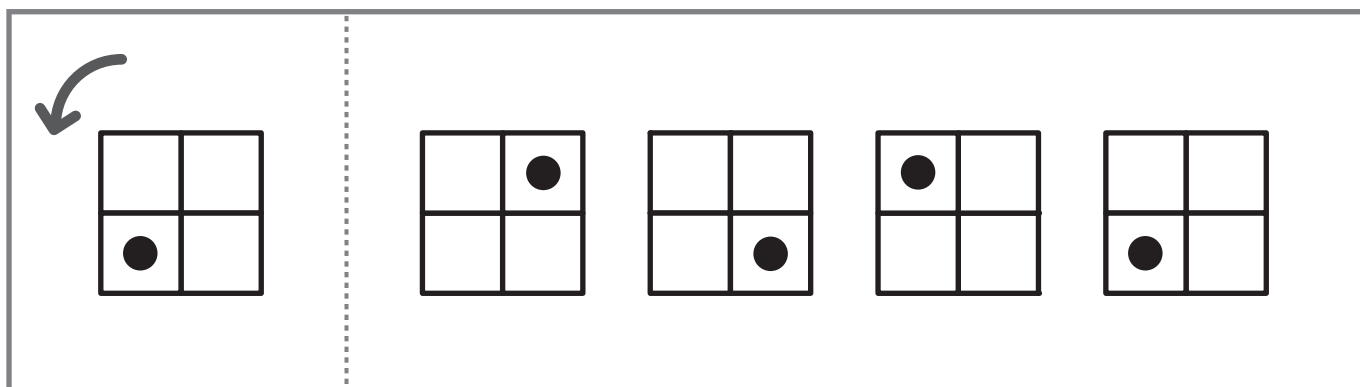


問題 2

[分野別くりかえし]
回転図形シリーズ・SAMPLE

ひだり みほん ずむ かい
左の見本の図を、やじるしの向きに1回まわすとどうなりますか。

ただ みぎ
正しいものを右からさがして○をつけてください。



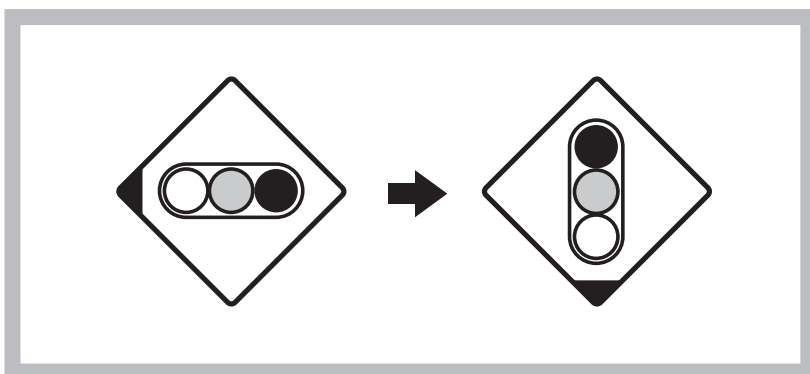
問題 3

[分野別くりかえし]
回転図形シリーズ・SAMPLE

うえ ず てほん
上の図はお手本です。

てほん み ひだり ず おな うご
お手本のきまりを見つけて、左の図を同じように動かすとどうなりますか。



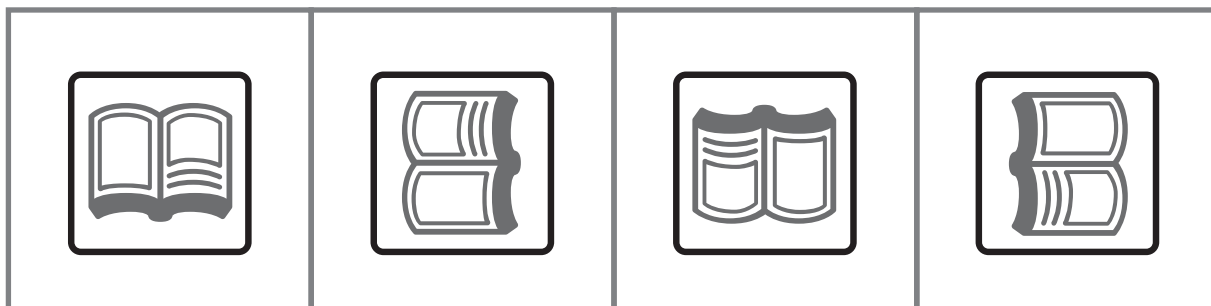

みぎ ただ
右の3つのうち、正しいものに○をつけましょう。



問題 4

[分野別くりかえし]
回転図形シリーズ・SAMPLE

うえ みほん ず む かい
上の見本の図を、やじるしの向きに2回まわすとどうなりますか。
ただ した
正しいものを下からさがして○をつけてください。



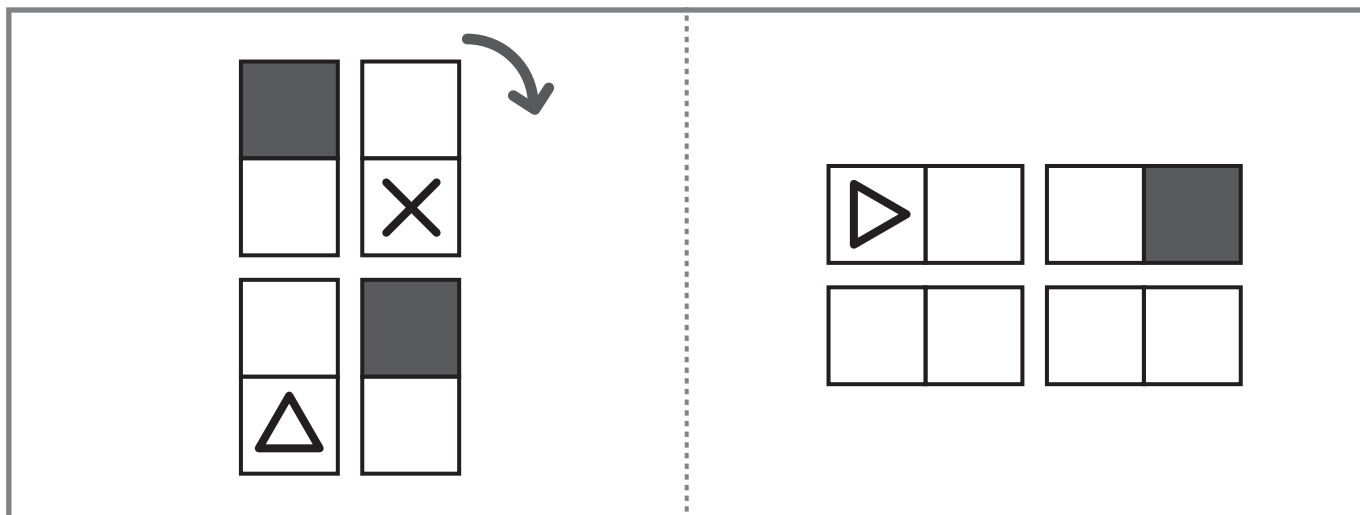
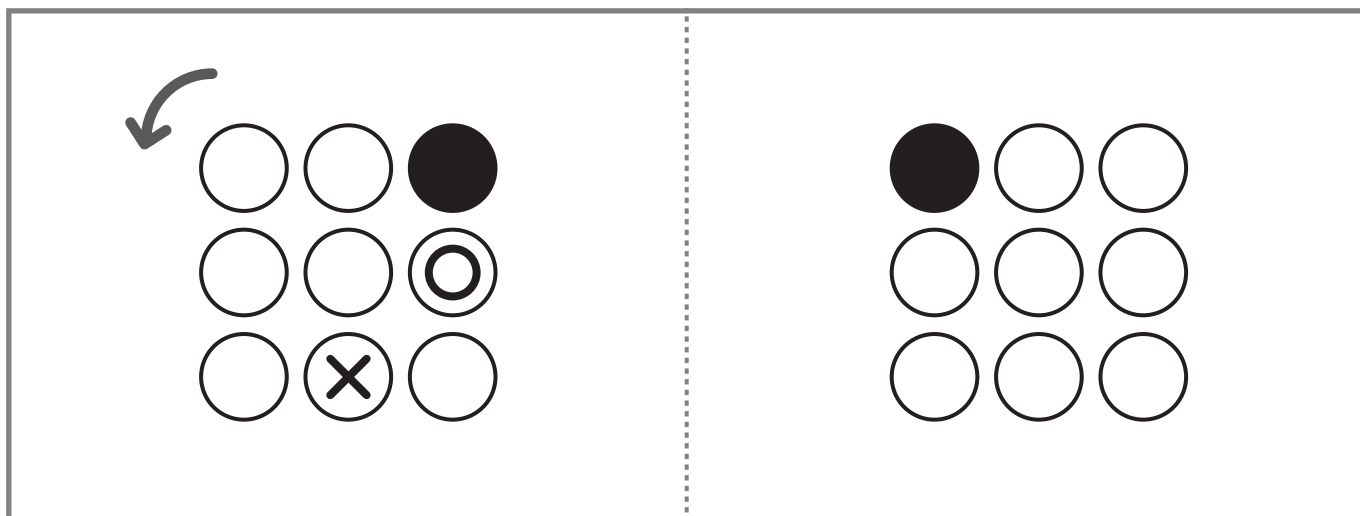
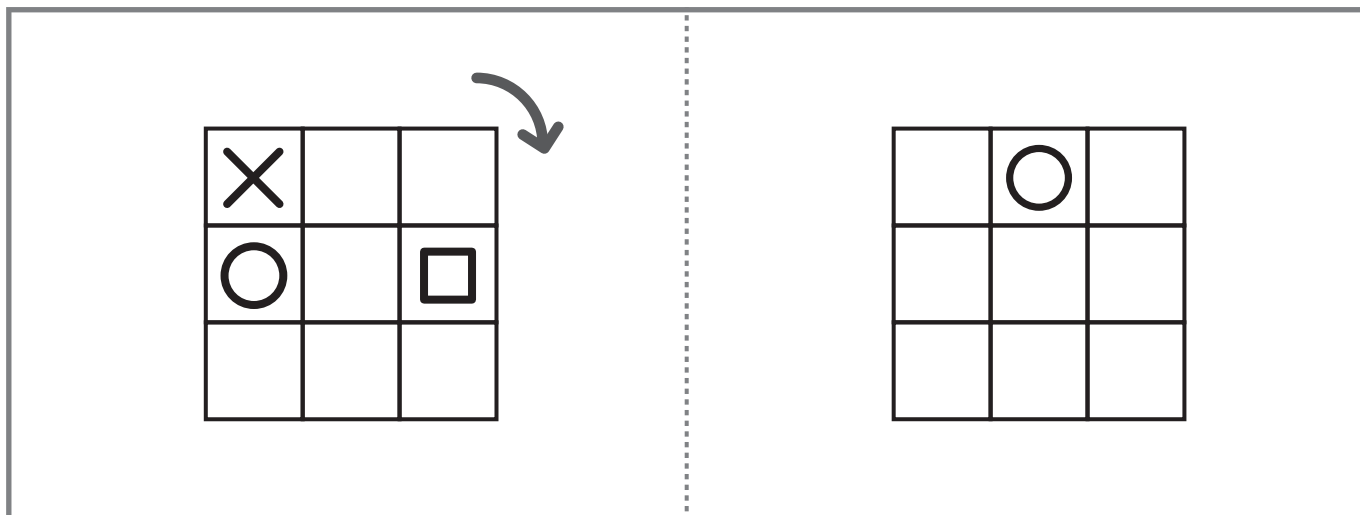
問題 5

[分野別くりかえし]
回転図形シリーズ・SAMPLE

ひだり ず む かい ころ
左の図を、やじるしの向きに1回 転がすとどうなりますか。

みぎ ず か いろ
右の図に、えんぴつでたりないところを書いたり、色をぬったりして

かんせい
完成させてください。



問題 6

[分野別くりかえし]
回転図形シリーズ・SAMPLE

うへ かたち ころ
タイルの上にある形を、コトンコトンと転がしていきます。

くろ うへ
では、黒いタイルの上に来たとき、どのようになっていますか。

した ただ えら
下の4つのうち、正しいものを選んで○をつけてください。

Diagram for the first problem. A triangle with a black dot inside is positioned on a row of seven rectangular tiles. The fourth tile from the left is black, and the others are gray. A curved arrow points from the top of the triangle towards the black tile. Below this, a dashed box contains four triangles, each with a black dot in a different position: bottom-right, top, bottom-left, and bottom-center.

Diagram for the second problem. A square with a white circle in the top-left and a black triangle in the bottom-right is positioned on a row of seven rectangular tiles. The fourth tile from the left is black, and the others are gray. A curved arrow points from the top-right corner of the square towards the black tile. Below this, a dashed box contains four squares, each with a white circle and a black triangle in different positions: (top-left, bottom-right), (bottom-left, top-right), (top-left, bottom-center), and (bottom-left, top-right).

問題 7

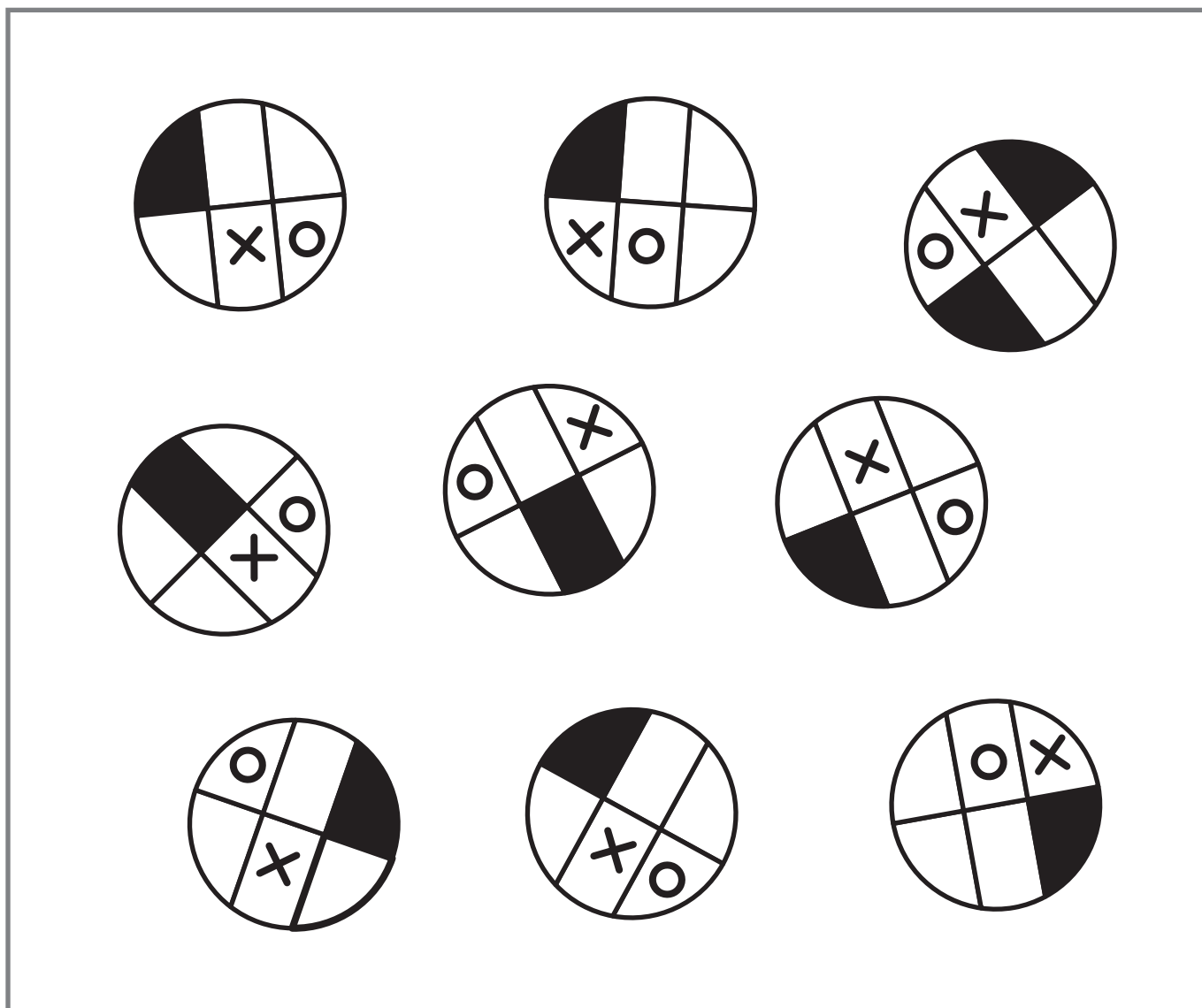
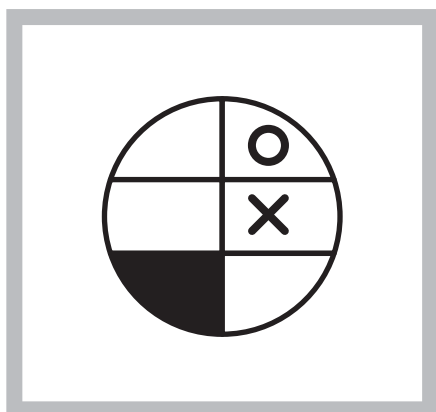
[分野別くりかえし]
回転図形シリーズ・SAMPLE

うえ みほん ず おな

上の見本の図と同じものを、

した
下の□のなかからさがして○をつけてください。

こた
答えはひとつとはかぎりません。



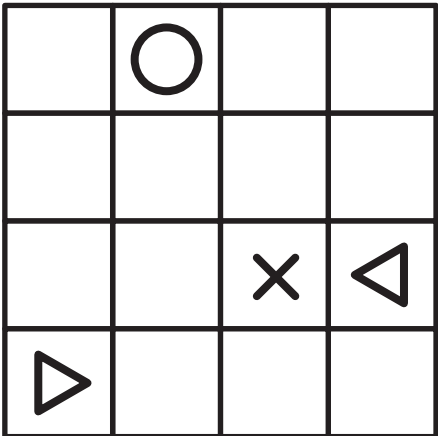
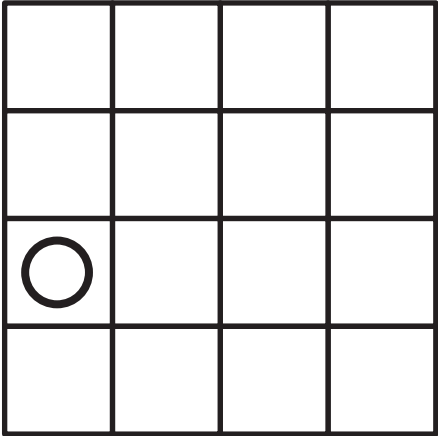
問題 8



[分野別くりかえし]
回転図形シリーズ・SAMPLE

ひだり ず む かい
左の図を、やじるしの向きに3回まわすと、

それぞれのしるしはどうなりますか。

みぎ ず か い
右の図にえんぴつで書き入れてください。

	
--	---

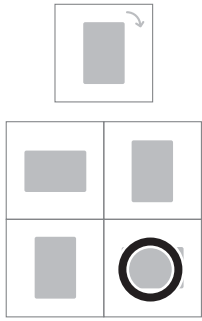
	
---	--

問題 9

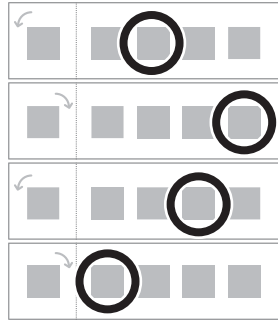
[分野別くりかえし]
回転図形シリーズ・SAMPLE

ひだり ず おな まい
左の図は、同じものが2枚かさなっています。そのうちの1枚を、
ちようどさかさになるよう^{うご}にくるっと動かすと、どのように
み^{ただ}見えるでしょうか。正しいものを右から選^{みぎ}んで○^{えら}をつけてください。

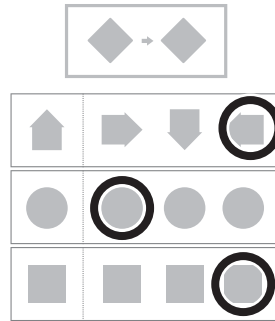
問題 1



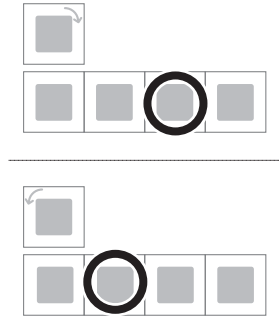
問題 2



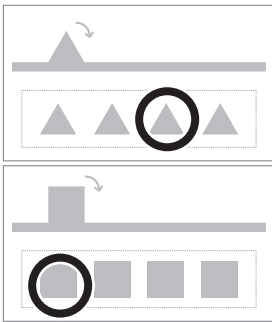
問題 3



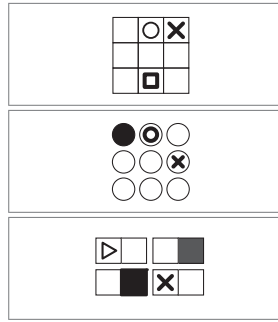
問題 4



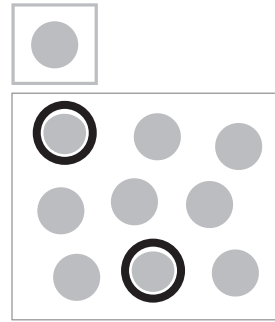
問題 5



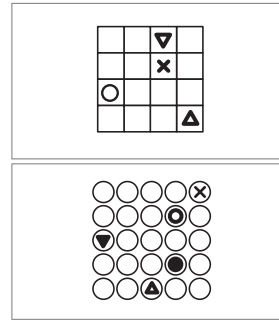
問題 6




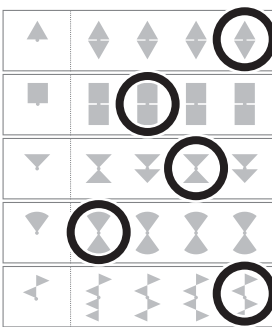
問題 7



問題 8



問題 9



もっと
やろう!

製品版のご購入はこちら

のびラボ!

<http://nobilabo.com>



よろしければ facebook にいいね!をお願いします♪

<http://www.facebook.com/nobilabo>