

StepOneKids

学習塾ステップワン オリジナル教材 幼児向けシリーズ

無料サンプル
ダイジェスト版

分野別くりかえし

かくれた数

この教材は
「分野別くりかえし かくれた数」シリーズから
一部を抜き出したものです。

[収録教材]

- 問題 1 ～ 3 ……Step.1
- 問題 4 ～ 6 ……Step.2
- 問題 7 ～ 9 ……Step.3

★色鉛筆、カラーペンなど
色分けのできる筆記具をご用意ください。

※鉛筆など一本で行う場合は、
問題文を適宜言い換えてください。



・教材の購入はこちら・

のびラボ!

<https://www.nobilabo.com>



ステップワン
StepOne

※当教材データの複製、配布、譲渡、転売等を禁じます。
※当教材の記載内容の一切について無断転載や複写、引用等を禁じます。

© 2022 Step One All Rights Reserved.

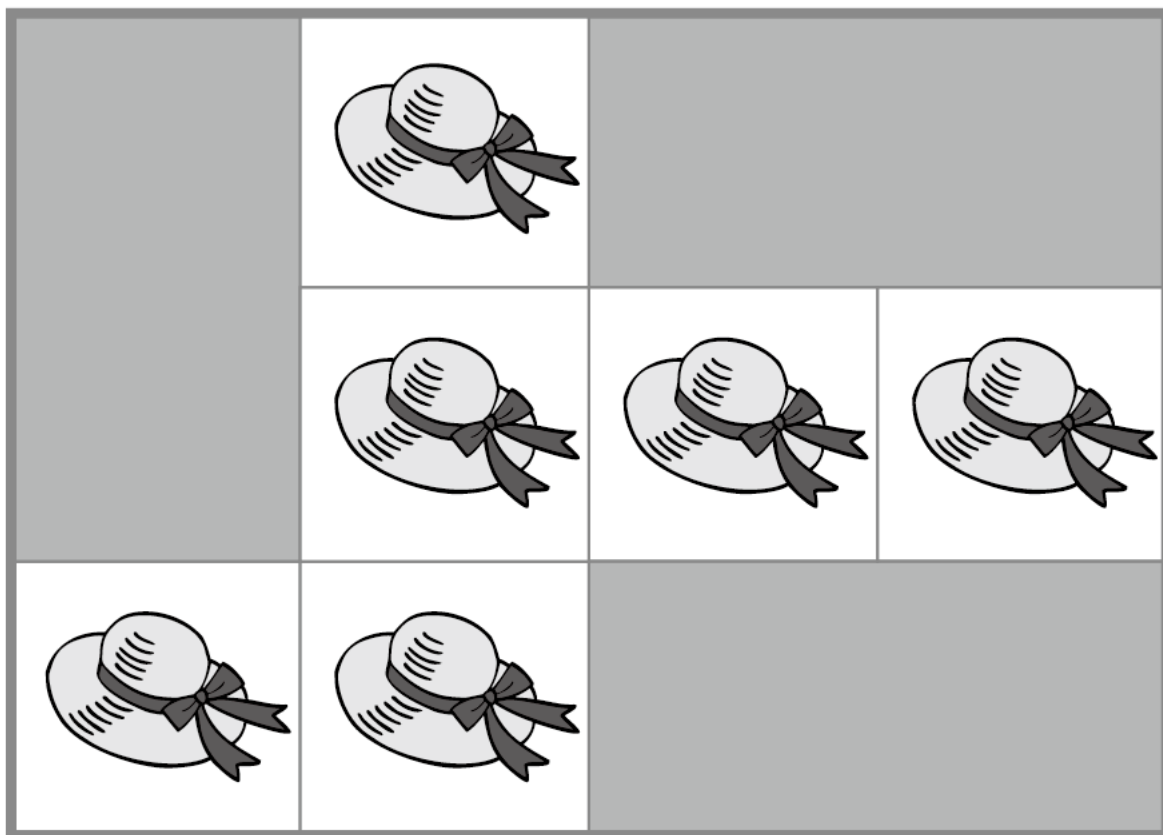
問題 1

分野別くりかえし
かくれた数シリーズ・SAMPLE

ぼうしの絵がきれいに並んでいますが、かくれているところがあります。

かくれている数をかぞえて、その数だけ、

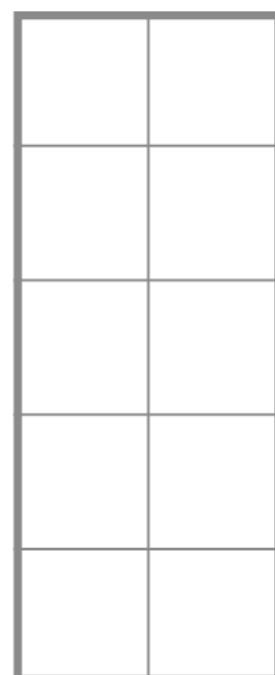
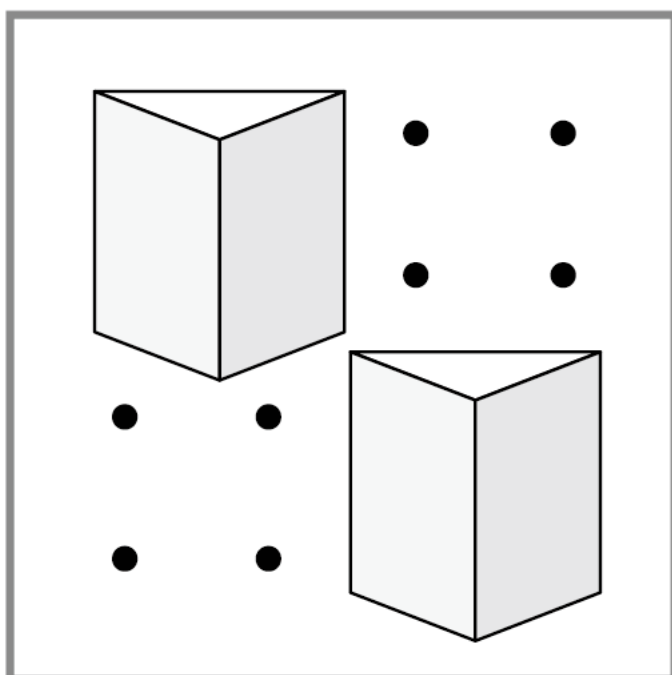
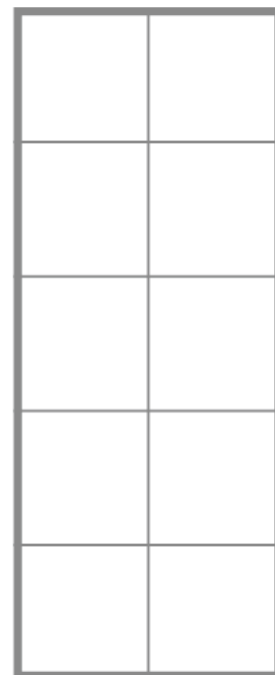
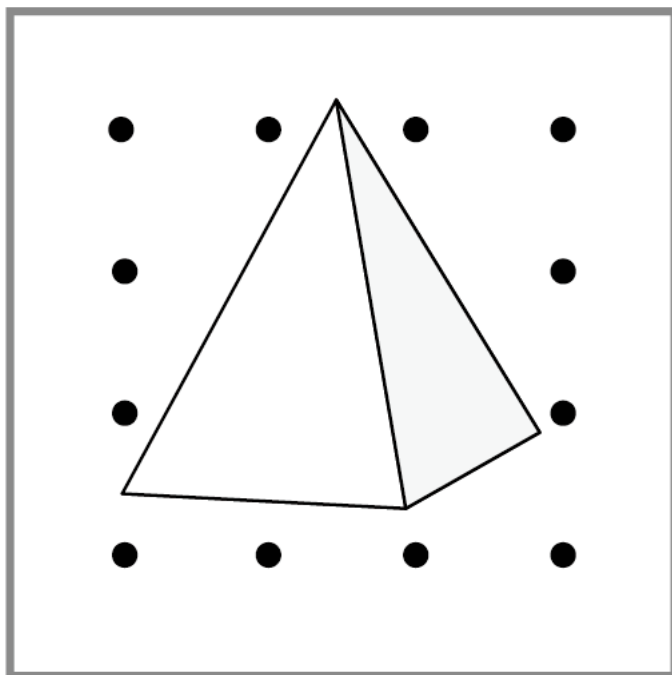
下のわくの中に緑色で×をかきましょう。



問題 2

分野別くりかえし
かくれた数シリーズ・SAMPLE

黒い点がきれいに並んでいますが、絵でかくれている点はいくつありますか。
その数だけ、右のわくの中に水色で○をかきましょう。



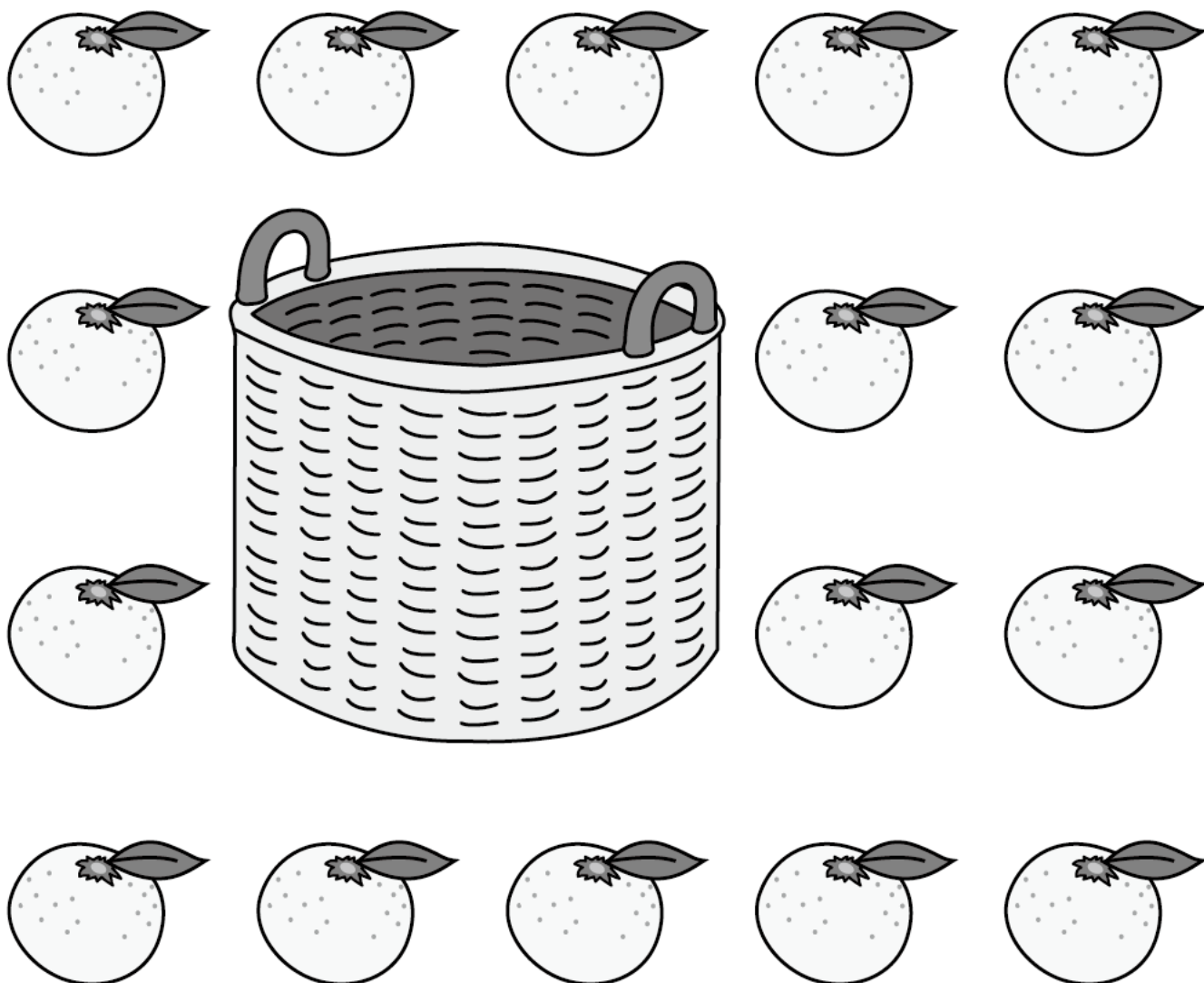
問題 3

分野別くりかえし
かくれた数シリーズ・SAMPLE

みかんがきちんと並んでいます。

けれども、かごの絵でかくれて見えないみかんがあります。

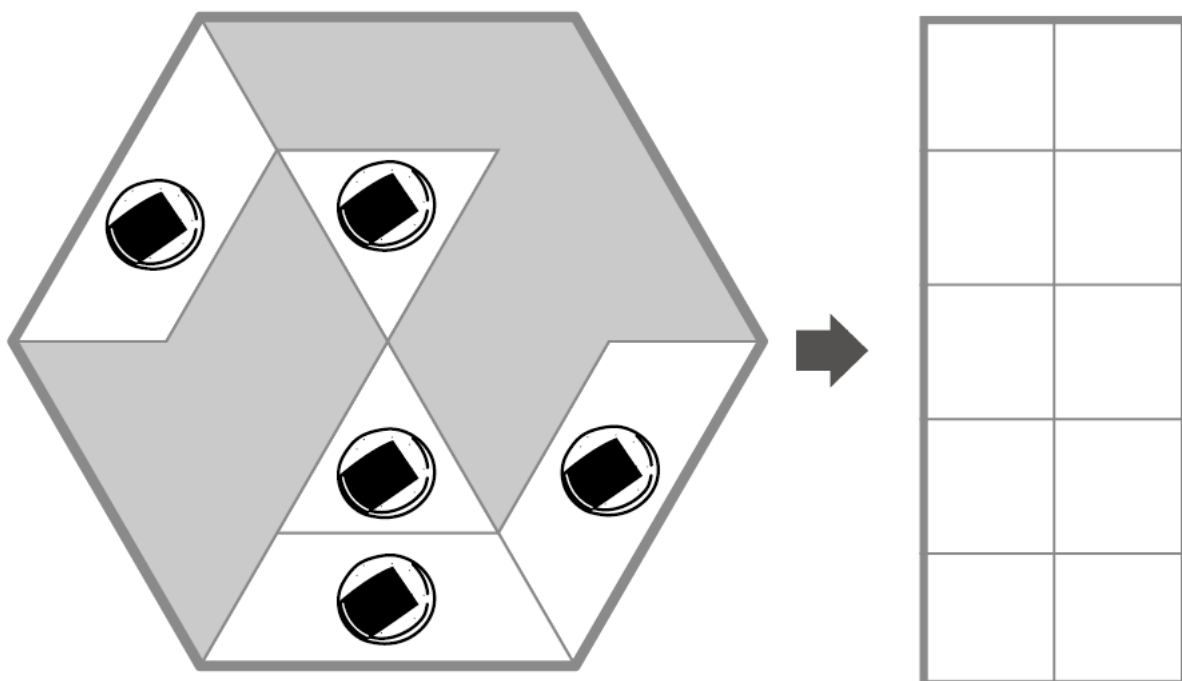
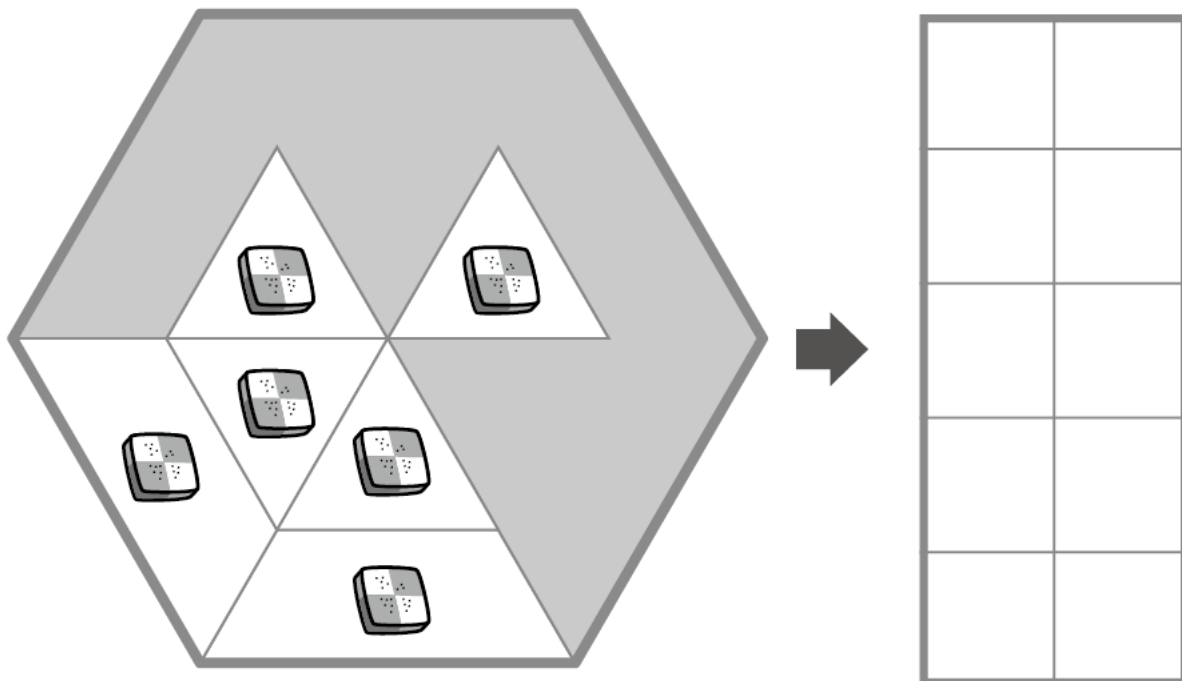
かくれているみかんの数だけ、下のわくの中に灰色で○をかきましょう。



問題 4

分野別くりかえし
かくれた数シリーズ・SAMPLE

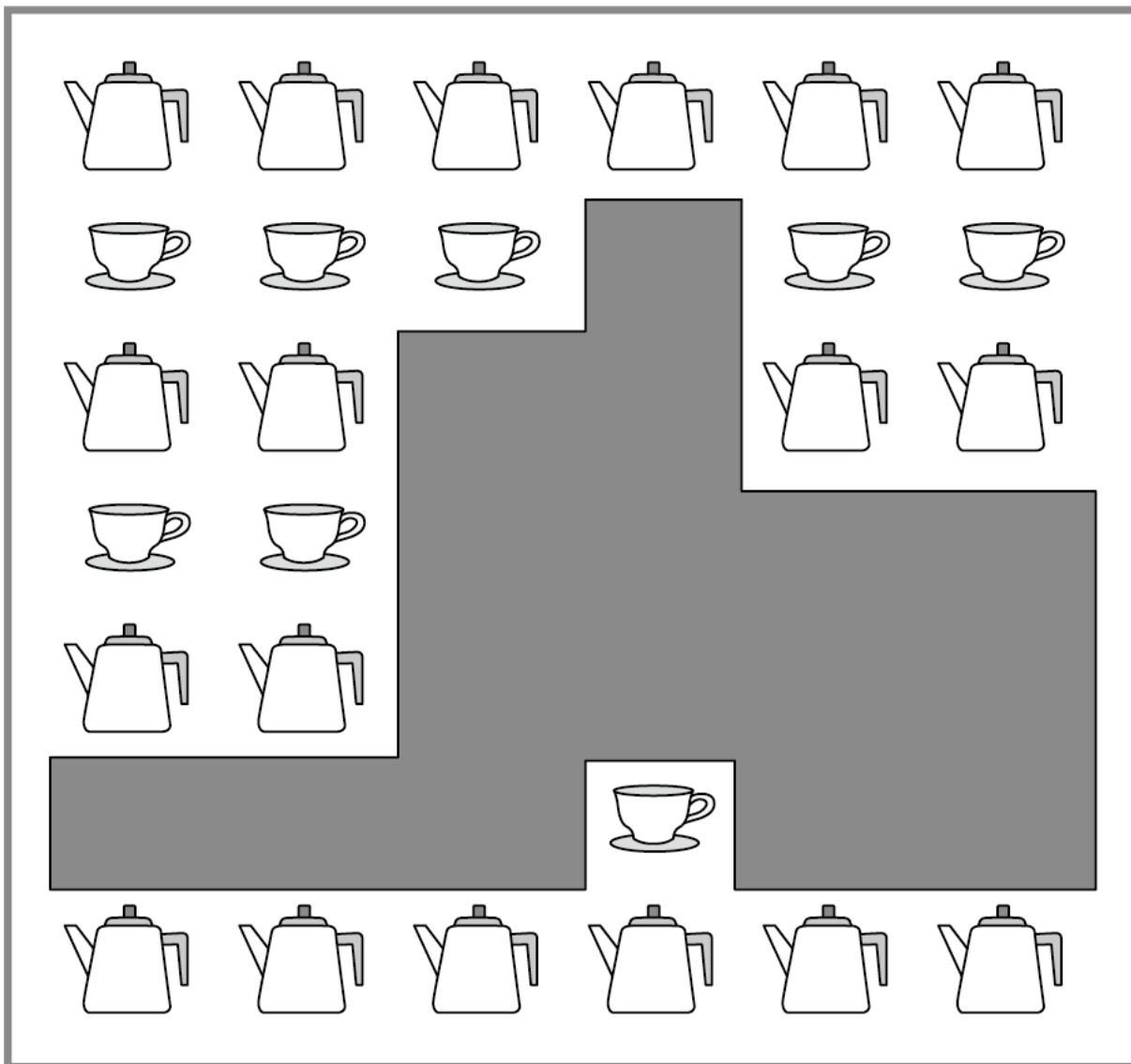
おなじもの絵がきれいに並んでいますが、かくれているところがあります。
かくれている数をかぞえて、その数だけ、右のわくの中に
はいいろで○をかきましょう。



問題 5

分野別くりかえし
かくれた数シリーズ・SAMPLE

おな え なら
同じものの絵がきれいに並んでいますが、かくれているところがあります。
かくれているもののかずをかぞえて、そのかずだけ、下のわくの中に
みどりいろ
それぞれ緑色で○をかきましょう。

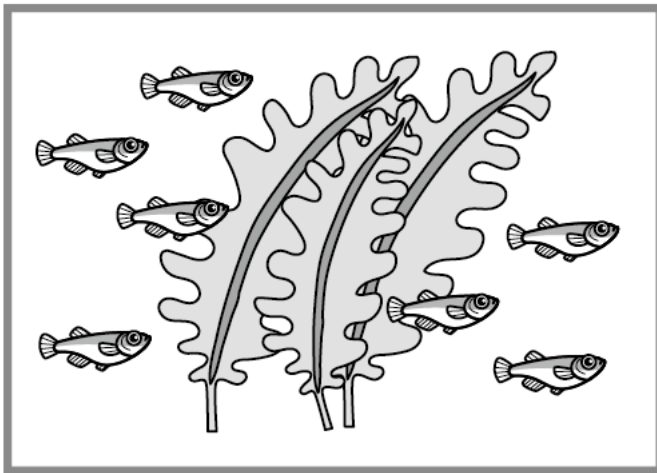



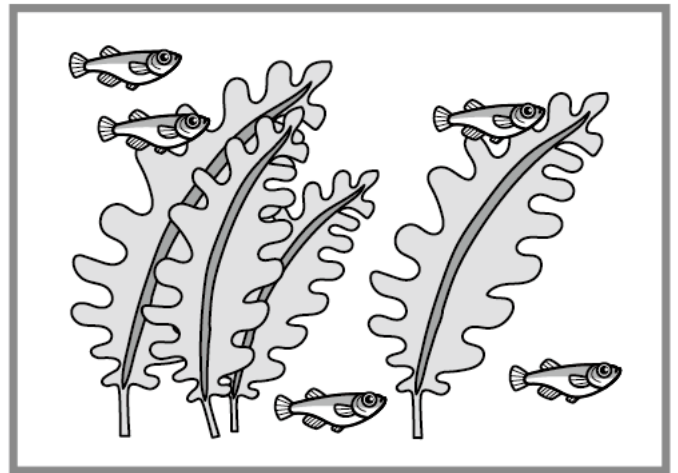
	
	

問題 6

分野別くりかえし
かくれた数シリーズ・SAMPLE

水そうの中に、めだかが上の絵の数だけいます。下の絵では、
何匹かが水草のうしろにかくれていて見えません。かくれている
めだかの数だけ、それぞれ下のわくの中に黄色で×をかきましょう。





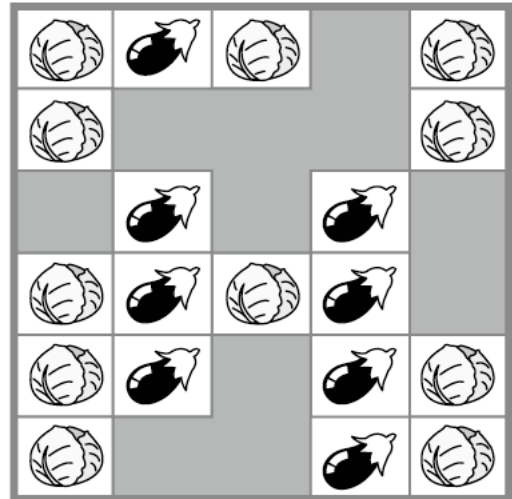
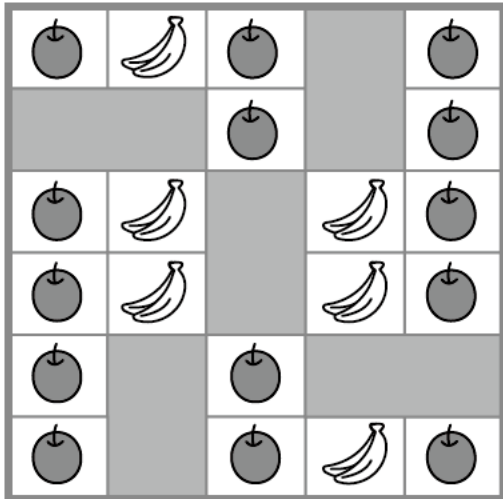
問題 7


分野別くりかえし
かくれた数シリーズ・SAMPLE


おな え なら
同じものの絵がきれいに並んでいますが、かくれているところがあります。

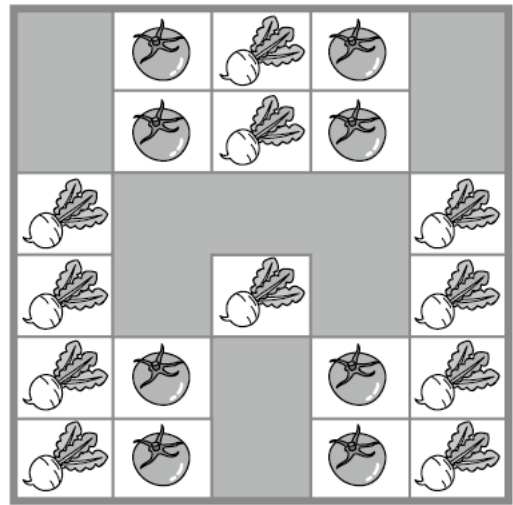
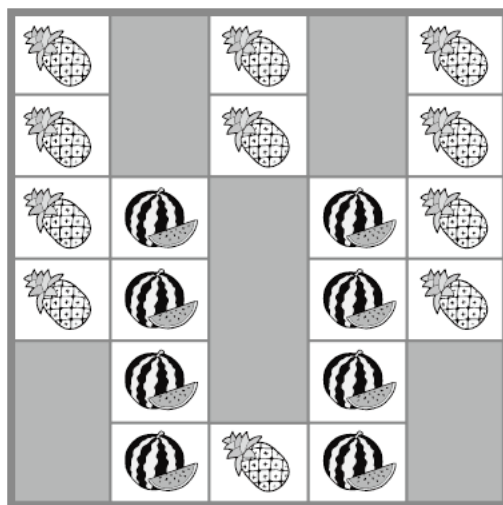
かくれている左下の絵の数をかぞえて、その数だけ、わくの中に


みずいろ
水色で○をかきましょう。







					


問題 8


分野別くりかえし
かかれた数シリーズ・SAMPLE

黒い点がきれいに並んでいますが、絵でかかれている点はいくつありますか。
その数だけ、下のわくの中に緑色で×をかきましょう。





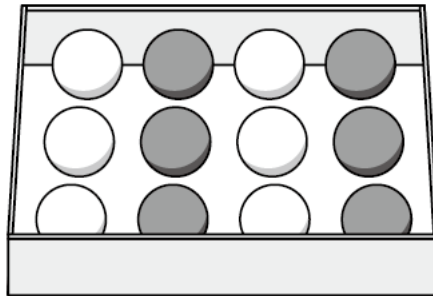




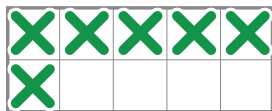
問題 9

分野別くりかえし
かくれた数シリーズ・SAMPLE

はこ なか しゅるい なら すこ
箱の中に2種類のボールがきれいに並んでいます。少しかくれています
なか み しろ かず
中が見えません。かくれている白いボールはいくつですか。その数と
おな かず え みぎ さが え うえ あかいろ
同じ数の絵を右の4つから探して、絵の上に赤色で○をかきましょう。



問題 1



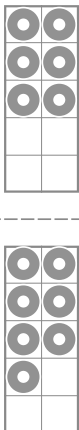
問題 2




問題 3



問題 4



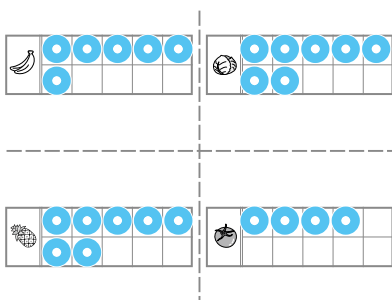
問題 5



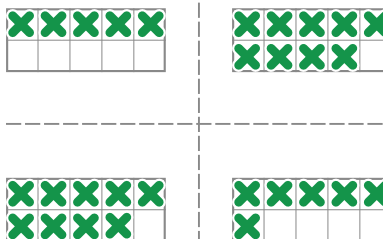
問題 6



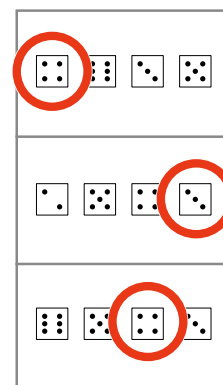
問題 7




問題 8



問題 9



※解答例は簡略表記のため、
わかりやすく大きめに表記しています。



もっと
やろう!

製品版のご購入はこちら

のびラボ!

<https://www.nobilabo.com>

