

StepOneKids

学習塾ステップワン オリジナル教材 幼児向けシリーズ

無料サンプル  
ダイジェスト版

# 分野別くりかえし 水の量

この教材は  
「分野別くりかえし 水の量」から  
一部を抜き出したものです。



・教材の購入はこちら・

のびラボ!

<http://nobilabo.com>

ステップワン  
StepOne

※当教材データの複製、配布、譲渡、転売等を禁じます。  
※当教材の記載内容の一切について無断転載や複写、引用等を禁じます。

©2014 Step One All Rights Reserved.

# 問題 1

[分野別くりかえし]  
水の量・SAMPLE

● コップの中にある水が、いちばん多いのはどれでしょう。

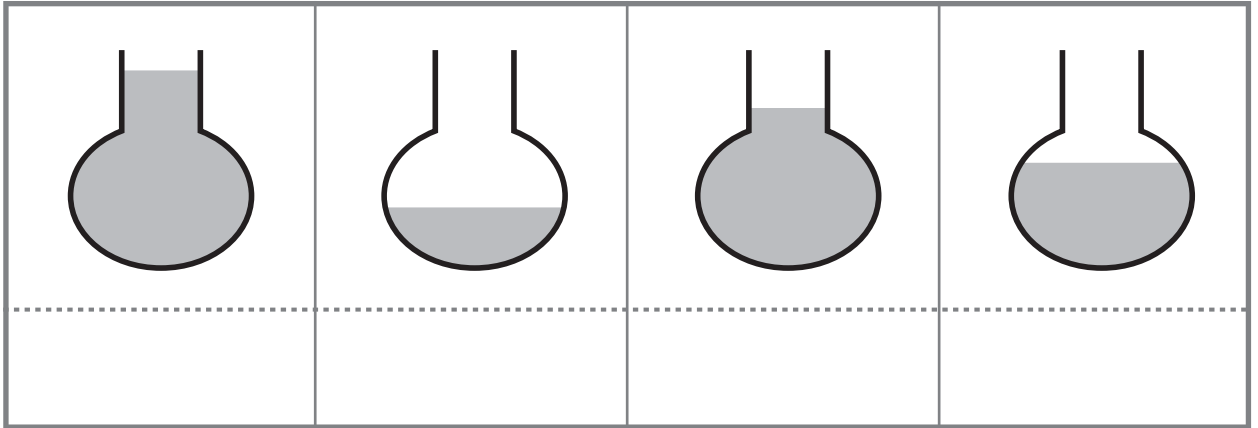
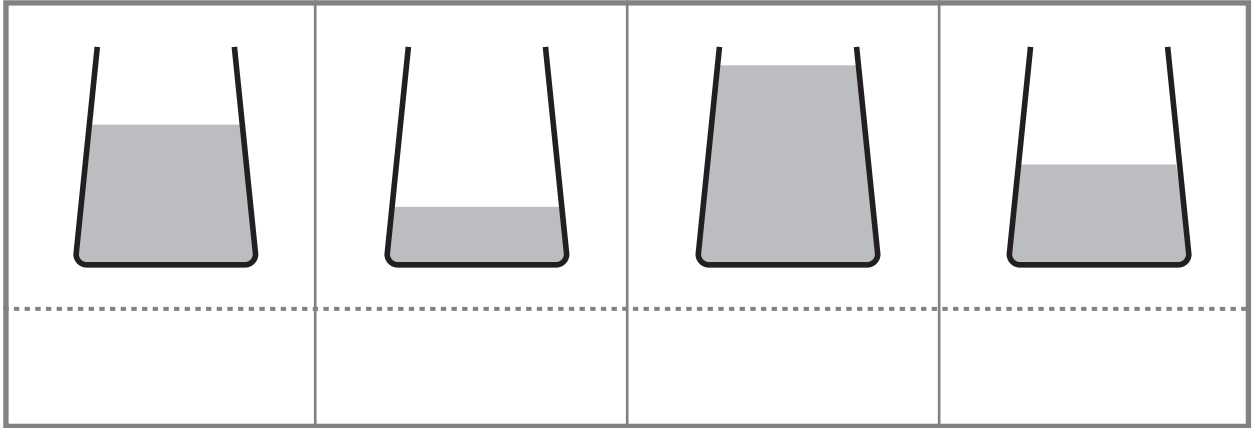
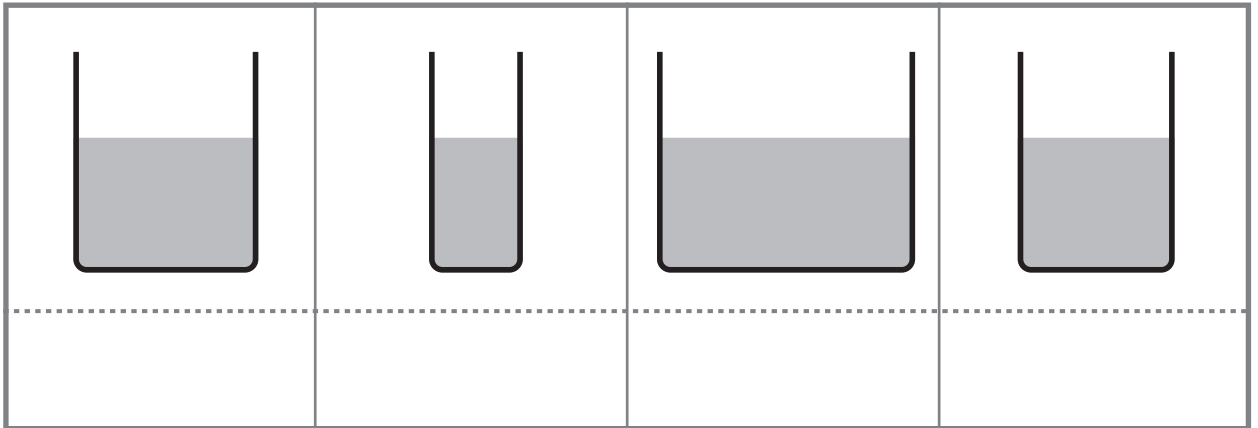
した なか なか おお  
下のわくの中に○をつけましょう。

●● コップの中にある水が、いちばん少ないのはどれでしょう。

した なか みず すく  
下のわくの中に×をつけましょう。

●●● コップの中にある水が、2ばんめに多いのはどれでしょう。

した なか みず おお  
下のわくの中に△をつけましょう。



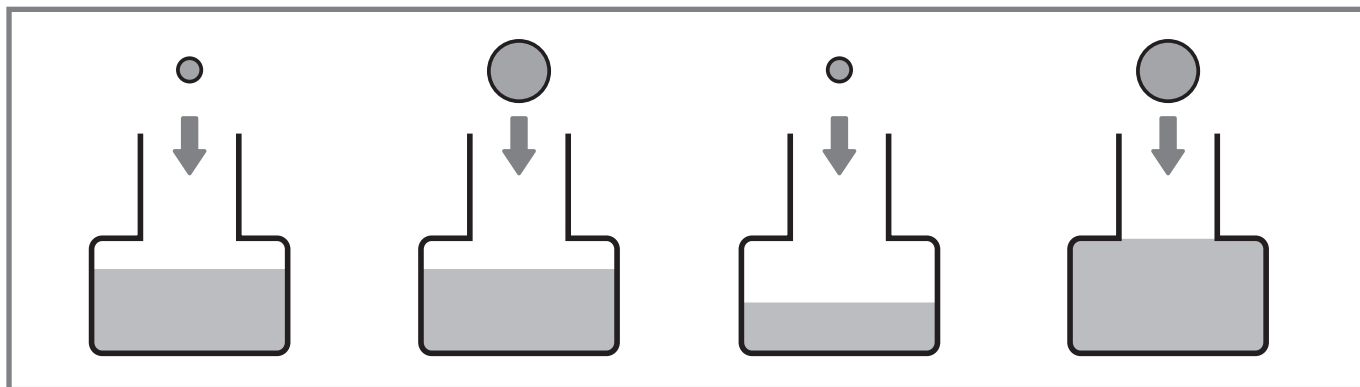
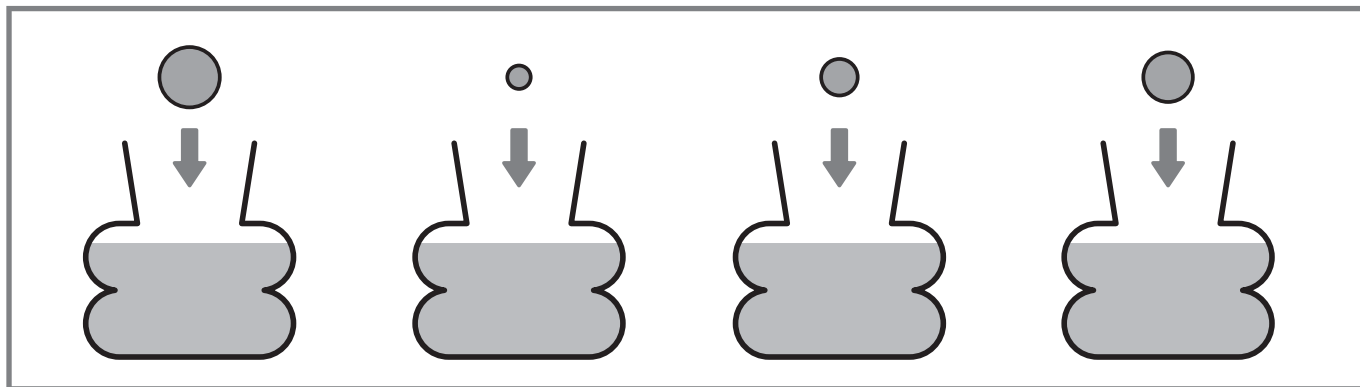
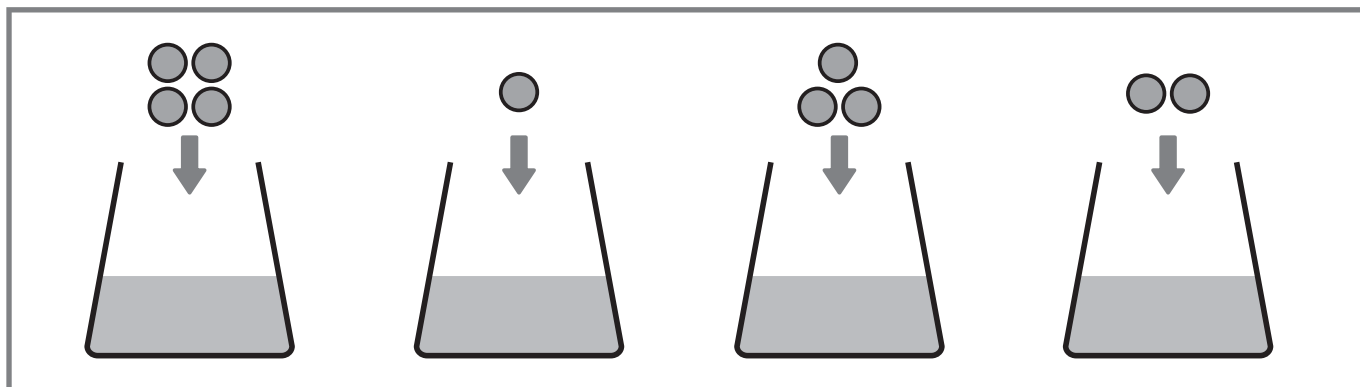
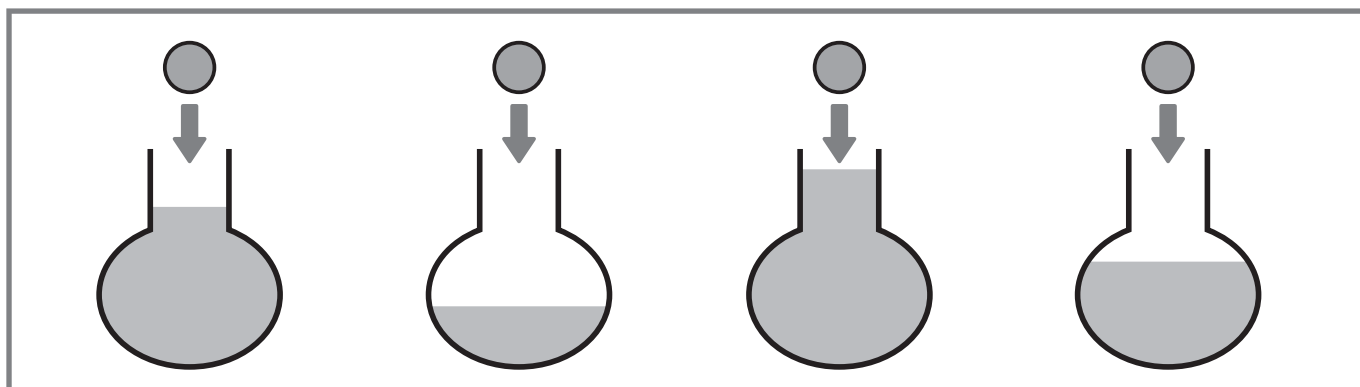
# 問題 2

[分野別くりかえし]  
水の量・SAMPLE

みず はい  
水の<sup>はい</sup>入ったコップにねん<sup>い</sup>どを入れます。

みず たか  
水の<sup>たか</sup>高さが2ばん<sup>たか</sup>めに高くなるものはどれですか。

え うえ  
絵の<sup>え</sup>上<sup>うえ</sup>に○をつけてください。



# 問題 3

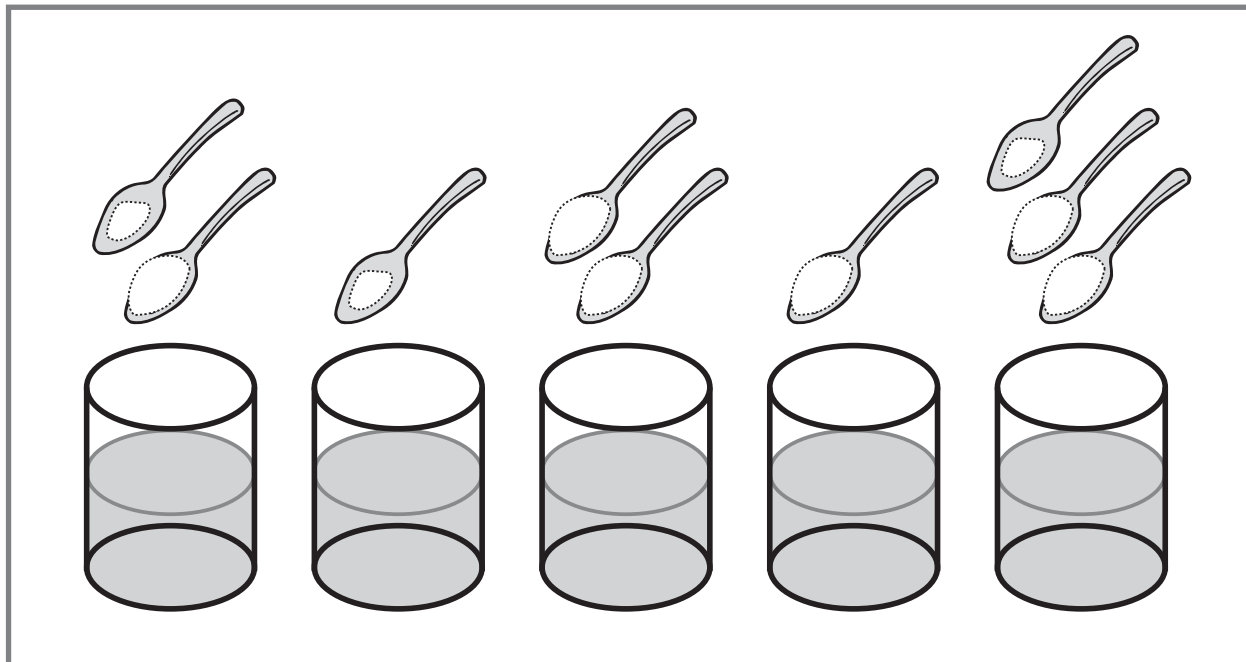
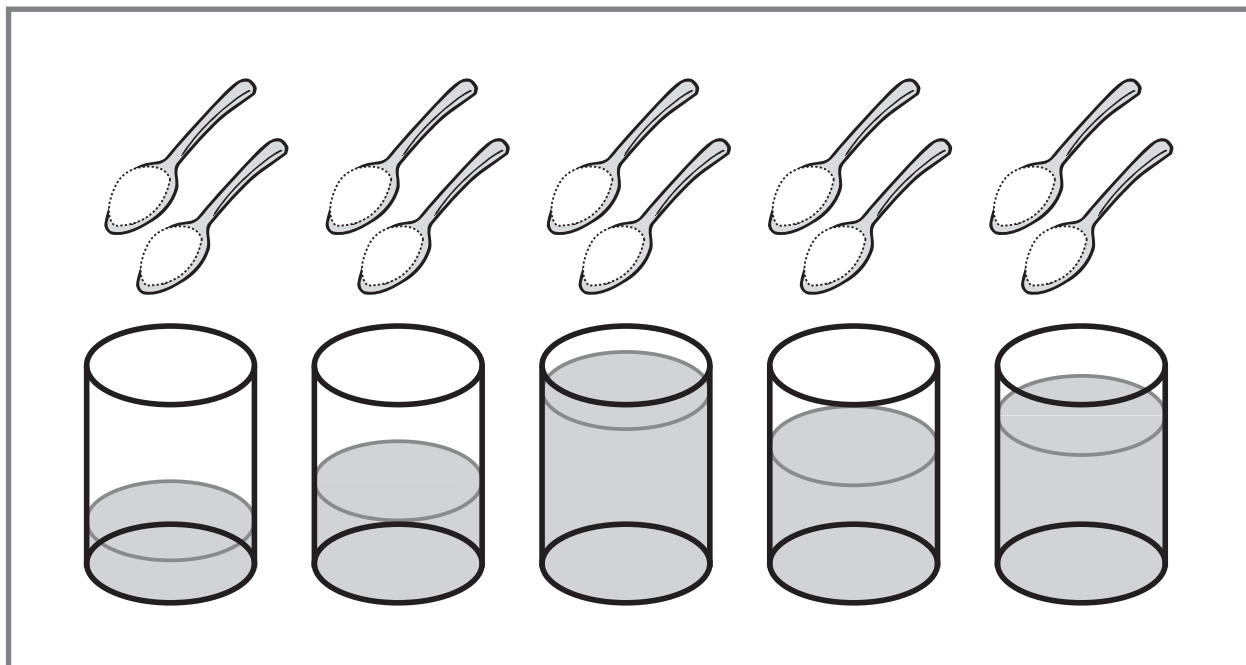
[分野別くりかえし]  
水の量・SAMPLE

- 同じ大きさのコップに水が入っています。それぞれのコップに  
おな おお みず はい  
おな りょう い あま  
同じ量のさとうを入れたとき、いちばん甘くなるのはどれですか。

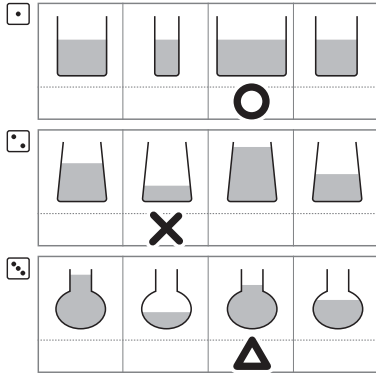
そのコップに○をつけてください。

- 同じ大きさのコップに、同じ量だけ水が入っています。  
おな おお おな りょう みず はい

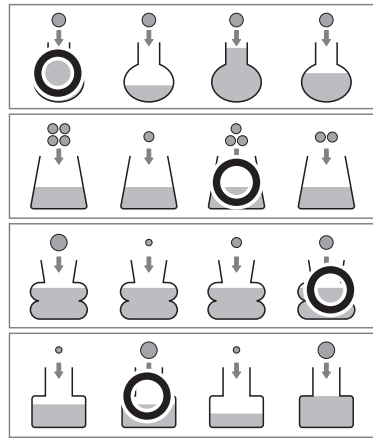
それぞれのコップに、その上にある量のさとうをいれたとき、  
うえ りょう  
いちばん甘くないのはどれですか。そのコップに○をつけてください。  
あま



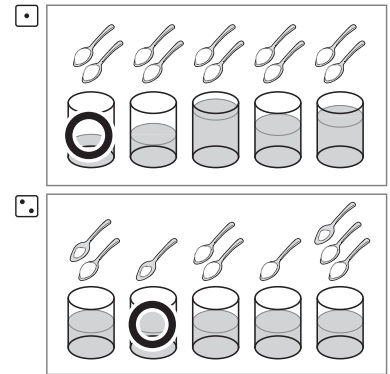
### 問題 1



### 問題 2



### 問題 3




※解答例は簡略表記のため、わかりやすく大きめに表記しています。

もっと  
やろう!

製品版のご購入はこちら

のびラボ!

<http://nobilabo.com>



よろしければ facebook にいいね!をお願いします♪

<http://www.facebook.com/nobilabo>