

StepOneKids

学習塾ステップワン オリジナル教材 幼児向けシリーズ

無料サンプル
ダイジェスト版

分野別くりかえし

おきかえ

この教材は
「分野別くりかえし おきかえ」シリーズから
一部を抜き出したものです。

[収録教材]

- 問題 1～3 …… Step.1
- 問題 4～6 …… Step.2
- 問題 7～9 …… Step.3



・教材の購入はこちら・

 のびラボ!

<http://nobilabo.com>

ステップワン
StepOne



※当教材データの複製、配布、譲渡、転売等を禁じます。
※当教材の記載内容の一切について無断転載や複写、引用等を禁じます。

©2013 Step One All Rights Reserved.

問題 1

[分野別くりかえし]
おきかえシリーズ・SAMPLE

てほん やくそく
お手本の約束どおりに、
え うえ
絵の上にしるしをつけていきましょう。









問題 2








[分野別くりかえし]
おきかえシリーズ・SAMPLE

てほん やくそく
お手本の約束どおりに、

おな ばしょ
同じ場所にするしをつけていきましょう。

おてほん

	=			=			=	
---	---	---	---	---	---	---	---	---



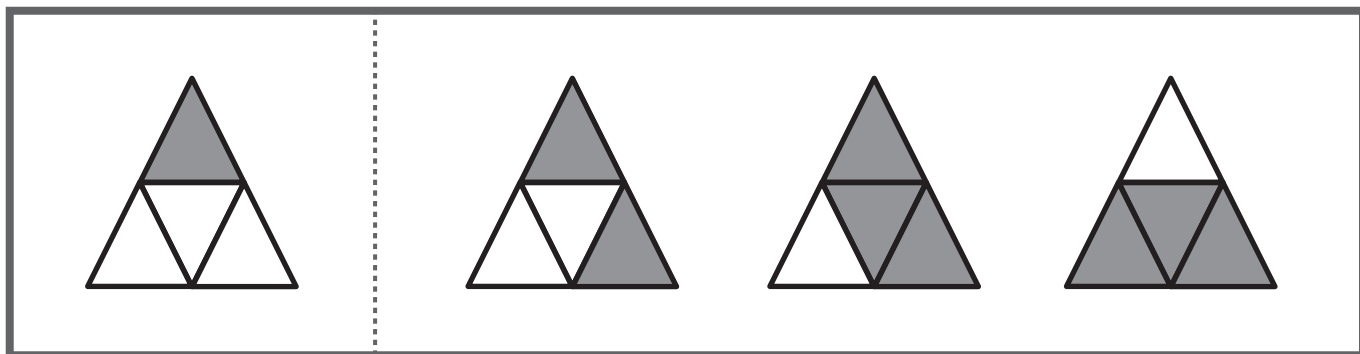
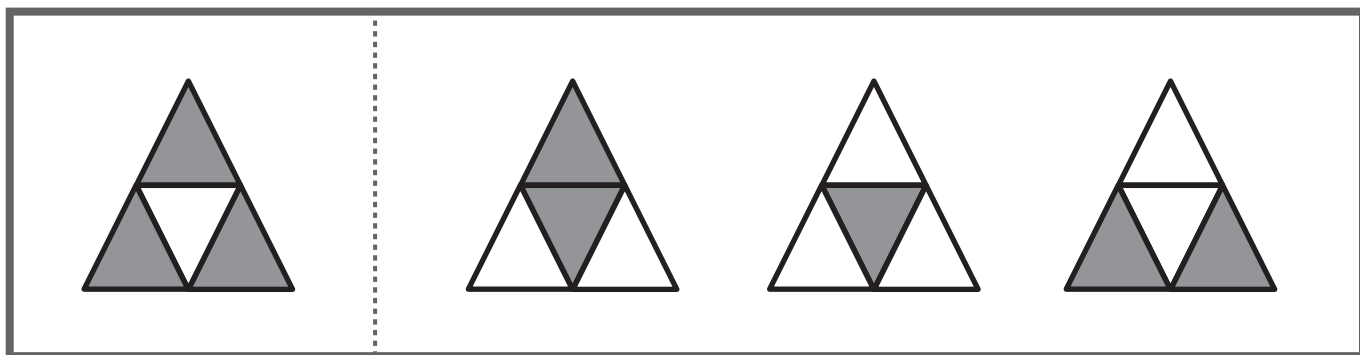
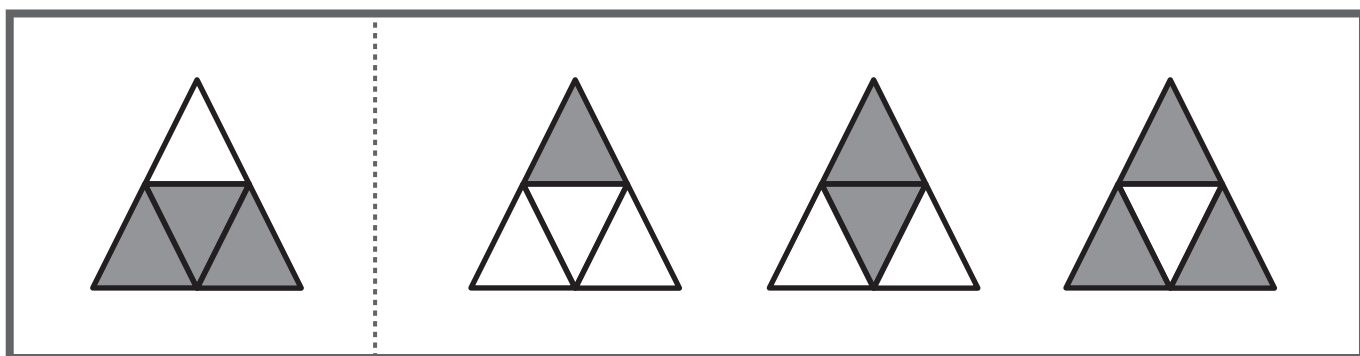
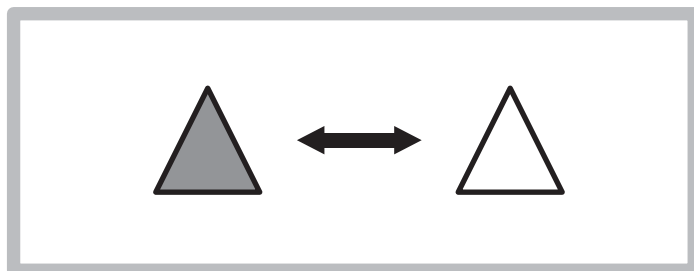
問題 3

[分野別くりかえし]
おきかえシリーズ・SAMPLE

ひだり え しろ
くろ
左の絵の、黒いところと白いところをとりかえます。

すると、どのようになりますか。

みぎ ただ えら
右から正しいものをひとつ選んで○をつけましょう。









































問題 4

[分野別くりかえし]
おきかえシリーズ・SAMPLE

てほん やくそく
お手本の約束どおりに、
え した
絵の下のわくにしるしをつけていきましょう。

おてほん

		
○	×	△







						
						
						
						
						

問題 5










[分野別くりかえし]
おきかえシリーズ・SAMPLE













てほん やくそく
お手本の約束どおりに、
おな ぼしょ
同じ場所にするしをつけていきましょう。

おてほん

 = 
  = 
  = 

問題 6

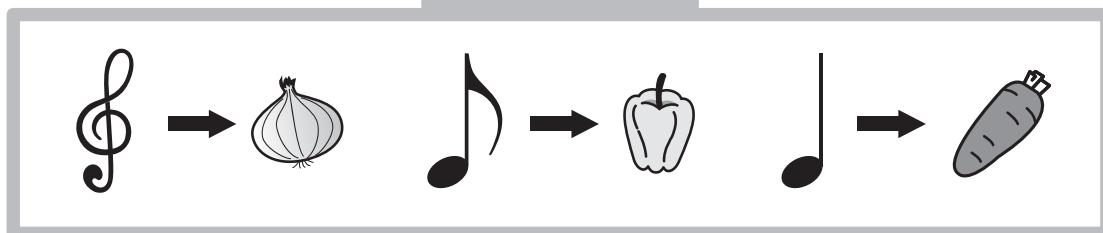
[分野別くりかえし]
おきかえシリーズ・SAMPLE

ひだり え てほん
左の絵にあるものを、お手本のように

それぞれ別のものにおきかえると、どのようになりますか。

みぎ ただ えら
右から正しいものをひとつ選んで○をつけましょう。

お手ほん



問題 7

[分野別くりかえし]
おきかえシリーズ・SAMPLE

てほん やくそく
お手本の約束どおりに、
え した
絵の下のわくにしろしをつけていきましょう。

お手ほん

○	×	□

問題 8


[分野別くりかえし]
おきかえシリーズ・SAMPLE

ひだり え てほん
左の絵にあるものを、お手本のように

それぞれ別のものにおきかえると、どのようになりますか。

みぎ ただ えら
右から正しいものをひとつ選んで○をつけましょう。

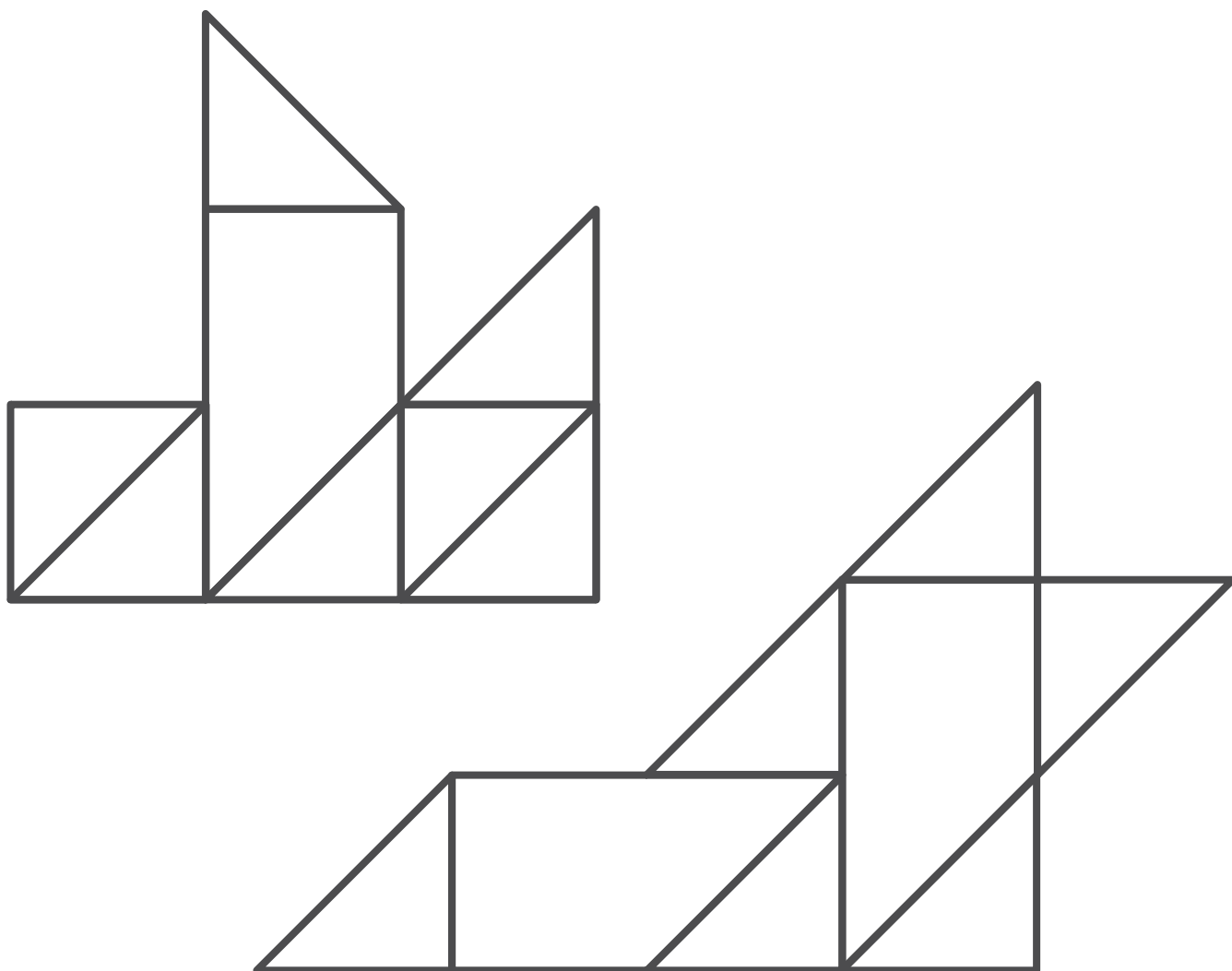

お手ほん




問題 9

[分野別くりかえし]
おきかえシリーズ・SAMPLE

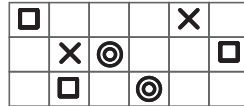
した なか うえ くら
下のかたちの中には、上のわくにある黒いかたちと
とりかえられるところがあります。その場所をさがして、黒くぬりましょう。



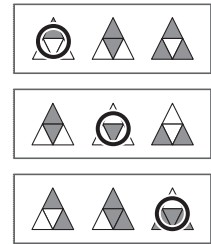
問題 1



問題 2



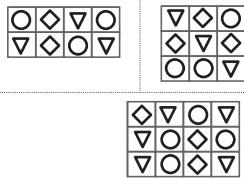
問題 3



問題 4



問題 5



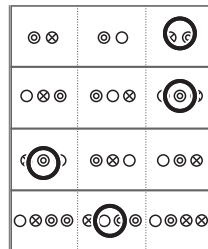
問題 6



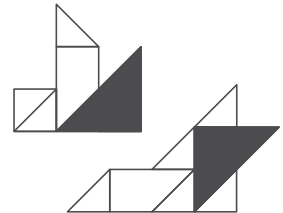
問題 7



問題 8



問題 9



もっと
やろう!

製品版のご購入はこちら

のびラボ!

<http://nobilabo.com>



よろしければ facebook にいいね!をお願いします♪

<http://www.facebook.com/nobilabo>

