

StepOneKids

学習塾ステップワン オリジナル教材 幼児向けシリーズ

無料サンプル
ダイジェスト版

分野別くりかえし

同数発見

この教材は
「分野別くりかえし 同数発見」から
一部を抜き出したものです。



・教材の購入はこちら・

のびラボ!

<http://nobilabo.com>

ステップワン
StepOne

※当教材データの複製、配布、譲渡、転売等を禁じます。
※当教材の記載内容の一切について無断転載や複写、引用等を禁じます。

















© 2015 Step One All Rights Reserved.

問題 1

分野別くりかえし
同数発見・SAMPLE

ひだり ゆび かず おな かず え
左はしにある指の数と、同じ数の絵はどれですか。

みぎ み え うえ
右から見つけて、絵の上にXをかきましょう。

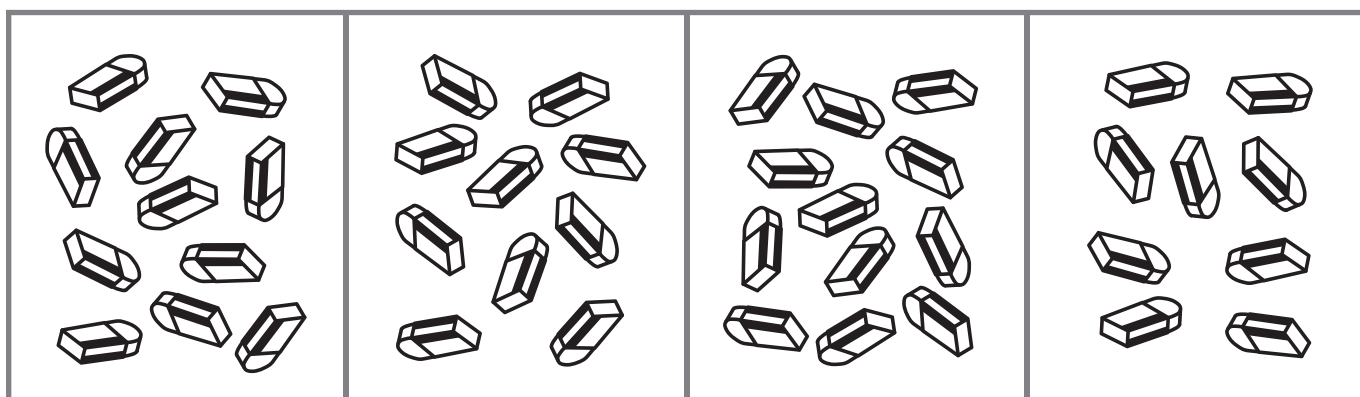

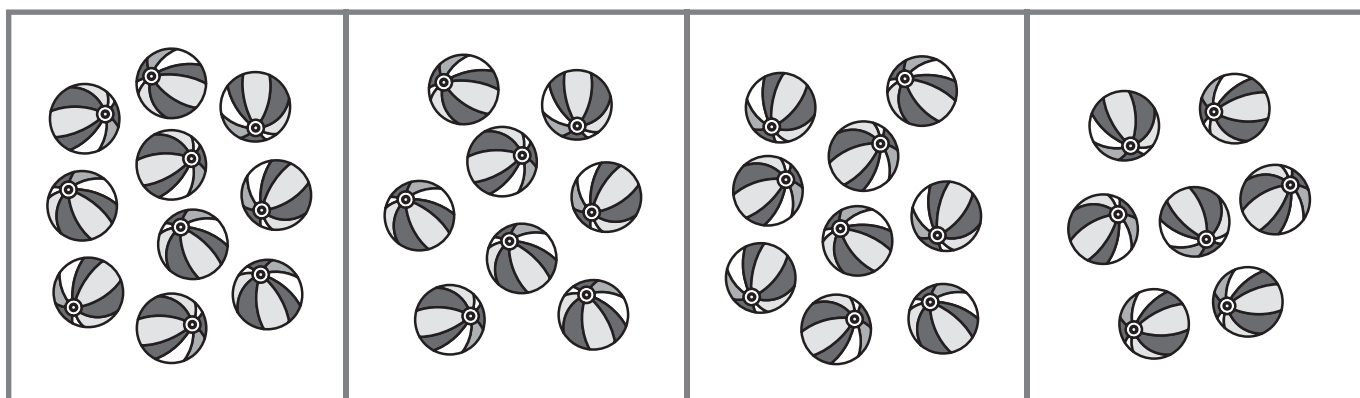

			
			
			
			

問題 2

分野別くりかえし
同数発見・SAMPLE

うえ わく なか かず おな かず え
上の枠の中にあるさいころの数と、同じ数の絵はどれですか。

した さが
下の4つから探して○をつけましょう。



問題 1

✋			✕
✋	✕		
✋		✕	
✋	✕		

問題 2

■ ■

	○		
--	---	--	--

■ ■

○			
---	--	--	--

問題 3

○		
	○	
		○

※解答例は簡略表記のため、わかりやすく大きめに表記しています。

もっと
やろう!

製品版のご購入はこちら

のびラボ!

<http://nobilabo.com>

