

StepOneKids

学習塾ステップワン オリジナル教材 幼児向けシリーズ

無料サンプル
ダイジェスト版

分野別くりかえし 位置

この教材は
「分野別くりかえし 位置」から
一部を抜き出したものです。



・教材の購入はこちら・

のびラボ!

<http://nobilabo.com>

ステップワン
StepOne

※当教材データの複製、配布、譲渡、転売等を禁じます。
※当教材の記載内容の一切について無断転載や複写、引用等を禁じます。

© 2014 Step One All Rights Reserved.

問題 1

分野別くりかえし
位置シリーズ・SAMPLE

- ^{うえ}いちばん上で^{みぎ}いちばん右のマス目に^め紫色で^{むらさきいろ}◎をかいてください。
- ^{うえ}上から4ばんめで^{ひだり}左から1ばんめのマス目に^め灰色で^{はいろ}△をかいてください。
- ^{うえ}上から3ばんめで^{みぎ}右から3ばんめのマス目に^め青色で^{あおいろ}×をかいてください。


問題 2

分野別くりかえし
位置シリーズ・SAMPLE


まど て おとこ こ いえ ごうしつ
窓から手をふっている男の子の家は、403号室です。

くまの家は302号室です。くまの家の窓を青くぬりましょう。

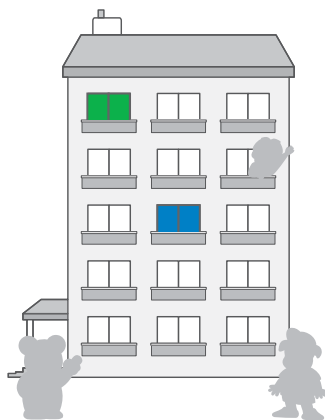
ぶたの家は、最上階の1号室です。ぶたの家の窓を緑色でぬりましょう。



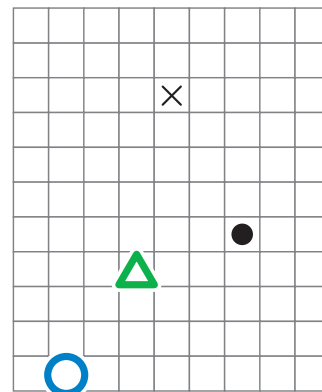
問題 1



問題 2



問題 3




※解答例は簡略表記のため、わかりやすく大きめに表記しています。

もっと
やろう!

製品版のご購入はこちら

のびラボ!

<http://nobilabo.com>



よろしければ facebook にいいね!をお願いします♪

<http://www.facebook.com/nobilabo>